

Prénom : _____

Date : _____

Calculs en colonnes

4	4
<hr/>	
+2	8



3	4
<hr/>	
+5	3

6	9
<hr/>	
+1	9

56	+20
<hr/>	

68	+31
<hr/>	

29	+35
<hr/>	

Prénom : _____

Date : _____

Calculs en colonnes

3	7
<hr/>	
+2	5

1	4
<hr/>	
+8	2

1	3
<hr/>	
+5	7

69	+24
<hr/>	

27	+36
<hr/>	

89	+4
<hr/>	



Prénom : _____ Nom : _____ Date : _____

Résolution de problèmes

Résous les problèmes: - en écrivant l'opération en ligne
 - en vérifiant le résultat avec l'opération posée
 - en écrivant la phrase de la réponse.

Skik l'écureuil a ramassé 57 noisettes. Il en trouve encore 37.

Combien de noisettes l'écureuil a t-il ramassées?

Calcul en ligne :

Calcul posé :

Phrase :

Manuel s'offre un vélo à 230 euros et un casque à visière à 45 euros.

Combien d'euros Manuel dépense t-il ?

Calcul en ligne :

Calcul posé :

Phrase :

Prénom : _____

Date: _____

Nombres et quantités: de 0 à 499




1 Ecris les nombres manquants:

386 389



.....
.....
.....
392 395



..... 426
.....
.....
417
.....



.....
.....
.....
479 189
.....

355 365
.....
.....
.....

2 Colorie les nombres identiques :

trois - cent - quatre - vingt - treize

426

$300 + 90 + 3$

$400 + 20 + 6$

$400 + 9$

409

$100 + 40 + 9$

quatre - cent - neuf

cent - quarante - neuf

393

149

quatre - cent - vingt - six

3 Complète :

382	$300 + 80 + 2$
276	
487	
349	

	$100 + 50 + 6$
	$400 + 90 + 2$
	$300 + 40 + 8$
	$400 + 80 + 1$

Prénom : _____

Date: _____

Nombres et quantités : de 0 à 499



1 Encadre le nombre.

..... 262

..... 378

..... 108

..... 465

..... 347

..... 386

..... 304

..... 412

..... 371

2 Colorie en bleu les unités, en rouge les dizaines et en vert les centaines

392

178

59

105

439

79

275

386

207

399

107

499


3 Ecris les nombres dans l'ordre croissant, du plus petit au plus grand:

305 - 295 - 190 - 98 - 79 - 459 - 450

<input type="text"/>	<input type="text"/>	<input type="text"/>	<input type="text"/>	<input type="text"/>	<input type="text"/>	<input type="text"/>
----------------------	----------------------	----------------------	----------------------	----------------------	----------------------	----------------------

4 Dessine :

123



272

380

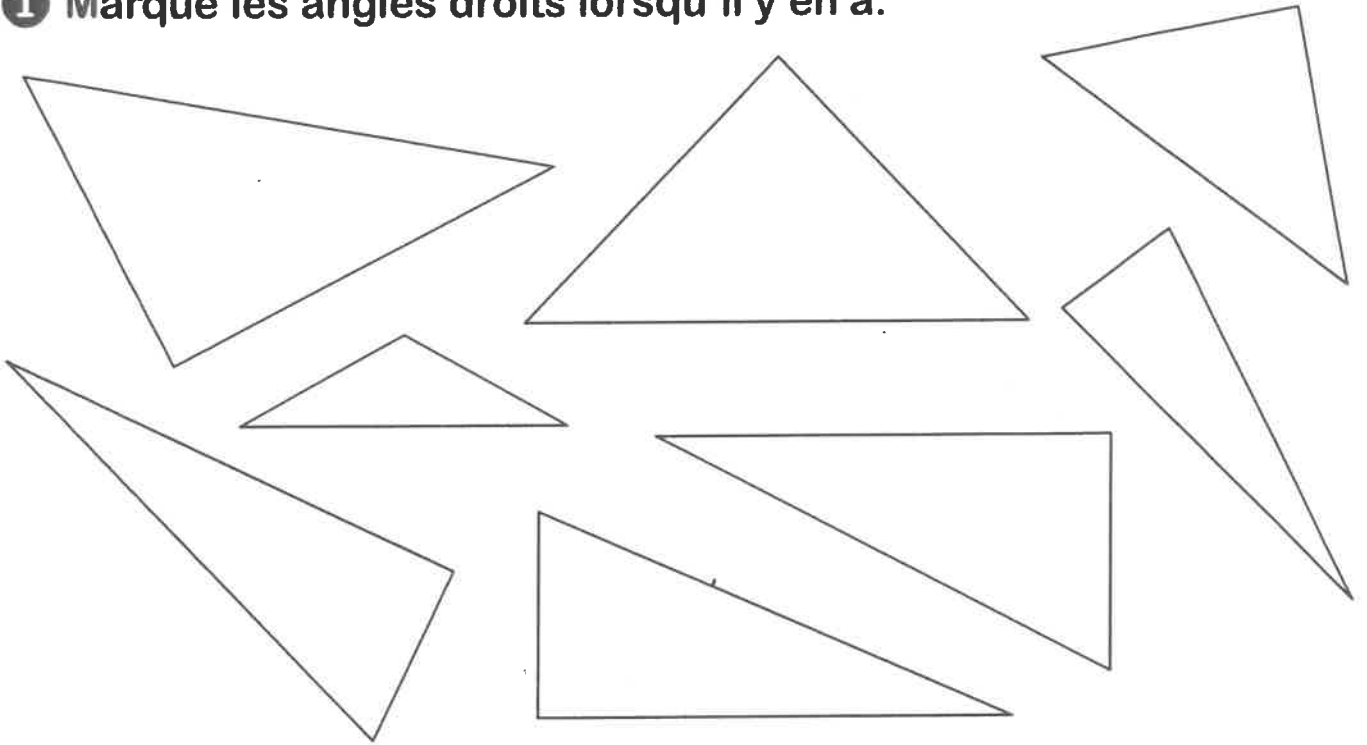
436

Prénom : _____

Date : _____

Géométrie : les triangles et les angles droits

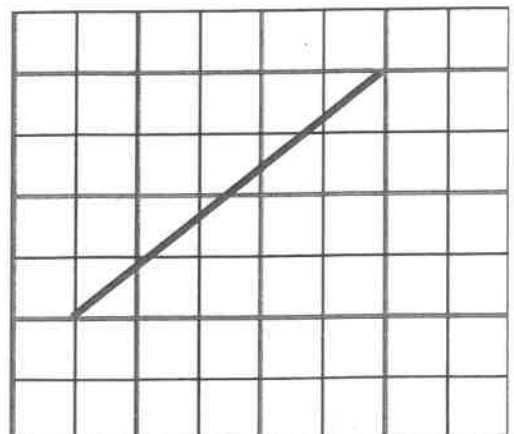

① Marque les angles droits lorsqu'il y en a.



② Complète cette phrase :

Certains triangles sont particuliers parce qu'ils ont
un .
On les appelle les .

③ Complète ces triangles rectangles.



Prénom : _____

Date : _____

Reproduction sur quadrillage

Compte les carreaux pour t'aider à reproduire les formes.

Reproduis avec ta règle chaque figure en partant du point.

